

IMIĘ I NAZWISKO UCZESTNIKA

DZIAŁANIA

72×	12+		18+	2÷	
			D		
C	11+				
2-		3÷		8×	8+
5×	10+	3÷			
A			30×		B

10×	8+		72×		2-
	30×				
B	12×		30×	2÷	
2÷		9+		12×	1-
A			2÷		C
2÷			D		
	4×			8+	

Podaj cyfry umieszczone w oznaczonych polach.

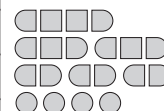
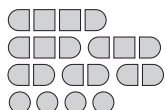
A	B	C	D

A	B	C	D

SAPER NA MORZU

			0		D			0	0
1	1	0		2	2				
A			1				2	2	0
		2	2	B	2			1	0
	6		3		1	1	2		1
	4				0		1		1
		2	2		0		1		
	1		1		0	1	1	1	C
	1	1	1	0		0			1
	0				0		1	0	
	0	1		3					0
		1			2		1	0	0

		2		3	2				0		
2		B					1	C		0	
		4	3				1			0	
1		2		1	0	1				1	0
		1		1						1	0
			0		0			3	2		
1	1				1						
1						D	3			3	2
1		1	0		2		A				
0			2					2	3		2
					1		1		0		
	0	1	2		1	1					0



Jeśli na oznaczonym polu jest statek, wpisz "1". W przeciwnym przypadku postaw "0".

A	B	C	D

A	B	C	D

WĘŻE SAPERA

C						1	0
2		D					
1		¹	₂			4	2
			B				
3		7					
2				¹	₂		3
		3	²	₂			A
0			2				

B	3				¹	₃	A
	3		4			3	
C							6
		¹	₃		5		
2							5
3		5	D				1
							1

Jeśli oznaczone pole jest zamalowane, wpisz "1". W przeciwnym przypadku postaw "0".

A	B	C	D
<input type="checkbox"/>	<input type="checkbox"/>	<input type="checkbox"/>	<input type="checkbox"/>

A	B	C	D
<input type="checkbox"/>	<input type="checkbox"/>	<input type="checkbox"/>	<input type="checkbox"/>

WIEŻE

			6			
4	7	10	6			3
		11			10	
		9	A			
2			4	D	7	5
B	7		C		11	9
4		10			7	

	B	3				9
	4		8		3	
		5		3		7
6		A	5	C	4	8
11		9	11			
	9	8		8		
	6	5			D	7

Jeśli oznaczone pole jest zamalowane, wpisz "1". W przeciwnym przypadku postaw "0".

A	B	C	D
<input type="checkbox"/>	<input type="checkbox"/>	<input type="checkbox"/>	<input type="checkbox"/>

A	B	C	D
<input type="checkbox"/>	<input type="checkbox"/>	<input type="checkbox"/>	<input type="checkbox"/>

IMIĘ I NAZWISKO UCZESTNIKA

TRATWY

		1		2				6	
	4								
		A	4			4		C	
	1						4		3
2		B			4				
							D		
	4								
					8			4	

		3	A		1			1	
							4		
4				6					C
		1			D				
			1				4		
	8	B							
			6				8		

Jeśli oznaczone pole jest zamalowane, wpisz "1". W przeciwnym przypadku postaw "0".

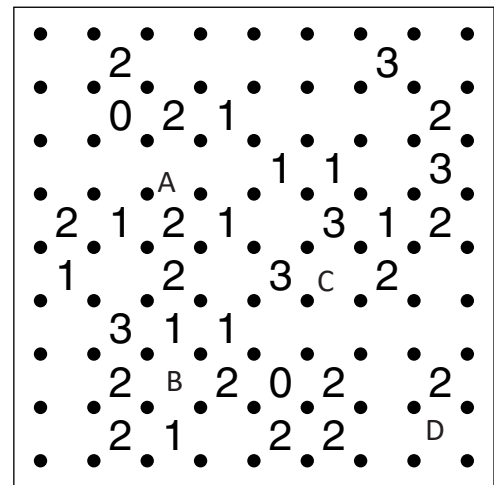

A B C D

--	--	--	--

A B C D

--	--	--	--

WIELOKROPKA



Podaj liczbę linii otaczających oznaczone pole.

A B C D

--	--	--	--

A B C D

--	--	--	--

WIEŻE

C		3				9
	4		8		3	
		5	B	3		7
6	D		5		4	8
11		9	11	A		
	9	8		8		
	6	5				7

A	7	8	11	10		8
6		6	9			
7	6		7	C		
	11				13	
7	6				8	D
B	7			3	9	
		4	3		8	5

Jeśli oznaczone pole jest zamalowane, wpisz "1". W przeciwnym przypadku postaw "0".

A	B	C	D

A	B	C	D

LAMPKI

B	1		D		0			
					1			
					0		1	1
0	3						C	1
1	A		0			1		
						2	0	
	1		1			2		

					0	1			
	1								
	C				0			3	A
0	1			1	0			2	
									1
			D		1	1			
0							B		0
				2		3			0
0	1								

Jeśli na oznaczonym polu jest lampka, wpisz "1". W przeciwnym przypadku postaw "0".

A	B	C	D

A	B	C	D

IMIĘ I NAZWISKO UCZESTNIKA

LATARNIE

1		2					0					2			1			
				2				B				3			1			
		3						C	5									C
				1				2										
D																		2
								2				2		0				
						0			D		A							3
												B			1			
4		A						5				3						2

Jeśli na oznaczonym polu jest latarnia, wpisz "1". W przeciwnym przypadku postaw "0".

A	B	C	D
<input type="checkbox"/>	<input type="checkbox"/>	<input type="checkbox"/>	<input type="checkbox"/>

A	B	C	D
<input type="checkbox"/>	<input type="checkbox"/>	<input type="checkbox"/>	<input type="checkbox"/>

PIRAMIDY

		B			3						2						4
				A		1				D							4
D						B			C			A				C	
					1						A						
					3							1					
2																	
				C													
					4												

Podaj cyfry umieszczone w oznaczonych polach.

A	B	C	D
<input type="checkbox"/>	<input type="checkbox"/>	<input type="checkbox"/>	<input type="checkbox"/>

A	B	C	D
<input type="checkbox"/>	<input type="checkbox"/>	<input type="checkbox"/>	<input type="checkbox"/>

A	B	C	D
<input type="checkbox"/>	<input type="checkbox"/>	<input type="checkbox"/>	<input type="checkbox"/>

ŁAMIGŁÓWKA ARCHYTEKTA

	4	1	2	2	2	3	2	2	3
5				🏠					🏠
0	🏠	🏠			🏠	🏠	🏠		🏠
4				D					
0				🏠					🏠
4		🏠							🏠
1	🏠	A		C	🏠				
3			🏠	🏠	🏠		🏠		
1						🏠			
3		🏠	B						🏠

	7	0	5	3	4	3	4	2	6	1	6
5				🏠	🏠					🏠	
0	🏠				🏠						🏠
6		🏠									
0			🏠		🏠		🏠		🏠		🏠
4		🏠	A				D		🏠		🏠
1			🏠			C					
3				B	🏠		🏠	🏠			🏠
2		🏠									
3											
1					🏠		🏠		🏠		
5		🏠			🏠		🏠		🏠		🏠
0	🏠					🏠			🏠		
5			🏠								🏠
0	🏠		🏠					🏠			
6				🏠		🏠		🏠		🏠	

Jeśli w polu stoi zbiornik, wstaw 1. W przeciwnym przypadku wstaw 0.

A	B	C	D

A	B	C	D

KRZYŻÓWKI LICZBOWE

	19	14	9	7	6	19	23
28		D					
42						B	
4						3	
					11		
					12		
				7			
				14			
				21			
				20			
				25			
				11			
21							
23		C				17	22
4						6	
			3	7	13		
37						A	
40							

			6	16	4		
			11				
			14				16
			23			C	
			12				9
11						5	
4						15	
				11	20	6	
				21			
				6			
				34			25
				29		A	
				6			9
6				B		3	
12						15	
				17	10	16	
36							D
				34			

Podaj cyfry umieszczone w oznaczonych polach.

A	B	C	D

A	B	C	D